

Probe-Test für kaufmännische Ausbildungsberufe

Der Test beinhaltet Probeaufgaben zu den folgenden Bereichen:

Allgemeinwissen / Wirtschaft

Mathematik

Logik

Konzentration

Deutsch

Englisch

Für jeden Bereich steht Ihnen **eine bestimmte Zeitspanne** zur Verfügung.
Um die Zeit zu kontrollieren, benutzen Sie bitte, sofern vorhanden, eine (Stopp-)Uhr.
Wenn die Zeit abgelaufen ist, gehen Sie bitte zur nächsten Aufgabe.
Bei den Matheaufgaben darf ein Taschenrechner zu Hilfe genommen werden.

Wichtiger Hinweis: Dieser Test ist lediglich ein Probetest, der Ihnen helfen soll, sich auf unseren Eignungstest einzustellen. Er enthält einige ausgewählte Teilbereiche des eigentlichen Tests. Bei den Aufgaben handelt es sich um allgemeine Beispiele, die in ähnlicher Form in unserem Eignungstest vorkommen können.

Informationen darüber, wie Sie sich auf solche Tests vorbereiten können, finden Sie im Internet, in den Berufsinformationszentren der Arbeitsämter (BIZ) oder im Buchhandel!

Allgemeinwissen / Wirtschaft

Sie haben für diesen Aufgabenbereich 4 **Minuten** Zeit. Bitte bearbeiten Sie die Seiten 2 - 3.

1. Welche Wirtschaftsordnung hat die Bundesrepublik Deutschland?

- a. Zentralverwaltungswirtschaft
- b. Zentralplanwirtschaft
- c. Freie Marktwirtschaft
- d. Soziale Marktwirtschaft
- e. Keine Antwort ist richtig.

2. Wer bestimmt in Deutschland die Minister und Richtlinien der Politik?

- a. Der Bundeskanzler
- b. Der Bundespräsident
- c. Der Bundestag
- d. Der Bundesrat
- e. Keine Antwort ist richtig.

3. Wann wurde die deutsche Wiedervereinigung (Tag der Deutschen Einheit) mit dem Beitritt der DDR zur BRD vollendet?

- a. 3. Oktober 1989
- b. 11. September 1990
- c. 3. Oktober 1990
- d. 11. September 1989
- e. Keine Antwort ist richtig.

4. Wann war der Fall der Mauer in Berlin?

- a. 9. November 1989
- b. 9. November 1990
- c. 9. Oktober 1989
- d. 9. Oktober 1990
- e. Keine Antwort ist richtig.

5. Wann fand der 1. Weltkrieg statt?

- a. 1913–1919
- b. 1914–1918
- c. 1939–1945
- d. 1940–1945
- e. Keine Antwort ist richtig.

6. Was versteht man unter dem Begriff „Inflation“?

- a. Preisniveaustabilität
- b. Anstieg des Preisniveaus
- c. Sinkende Preise
- d. Geldaufwertung
- e. Keine Antwort ist richtig.

7. Was bedeutet „DAX“?

- a. Deutscher Aktienhandel
- b. Deutsche Aufsicht für Indizes
- c. Deutsche Agentur für Indizes
- d. Deutscher Aktienindex
- e. Keine Antwort ist richtig.

Mathematik

Sie haben für diesen Aufgabenbereich **15 Minuten** Zeit. Bitte bearbeiten Sie die Seiten 4 - 7.

1. **Stellen Sie die Brüche als Dezimalzahlen dar.**

$$\text{a) } \frac{16}{80} =$$

$$\text{b) } \frac{40}{16} =$$

2. **Zu jedem Bruch aus der oberen Zeile passt genau einer aus der unteren Zeile.
Verbinden Sie jeweils durch Pfeile.**

$$5\frac{1}{3}$$

$$2\frac{4}{5}$$

$$\frac{42}{9}$$

$$\frac{32}{10}$$

$$\frac{16}{5}$$

$$\frac{14}{3}$$

$$\frac{16}{3}$$

$$\frac{14}{5}$$

3. **Lösen Sie die folgenden Aufgaben.**

$$\text{a) } 2\frac{1}{2} - \frac{5}{10} =$$

$$\text{b) } \frac{4}{6} : \frac{2}{3} =$$

4. a) Berechnen Sie:

	6	4	7,	1	3
+	2	8	5,	9	7

b) Ergänzen Sie die fehlenden Ziffern:

	4,	3		8
-	1,		4	
	,	5	3	7

5. Kreuzen Sie an, welche Gleichung dem Text in der Box entspricht.

Addieren Sie 7 zu x und dividieren Sie das Ergebnis durch 2, so erhalten Sie das Produkt aus 6 und 3.

$(x + 7) : 2 = 6 \cdot 3$

$(x + 7) \cdot 2 = 3 + 6$

$(x : 7) - 2 = 6 \cdot 3$

$(x \cdot 7) : 2 = 3 \cdot 6$

6. Welche der folgenden Gleichungen sind richtig umgeformt?

$2 \cdot (x - 3) = 2x - 3$

$(x + 3) \cdot 2 = 2x + 6$


$2 \cdot (x - 3) = 2x - 6$

$2 \cdot (x - 3) = x - 6$


Logik

Sie haben für diesen Aufgabenbereich **2 Minuten** Zeit. Bitte bearbeiten Sie die Seite 8.

Die Dominosteine sind nach einer bestimmten Logik angeordnet.



Welcher der Dominosteine ersetzt den Stein mit den zwei Fragezeichen sinnvoll?



Sie sehen ein Quadrat mit neun Zahlen. Die Zahlen setzen sich nach einer bestimmten Logik zusammen.



Welche Zahl in dem Rechteck ist falsch?

- a.) 16 b.) 4 c.) 1 d.) 2 e.) 5

Konzentration

Sie haben für diesen Aufgabenbereich **6 Minuten** Zeit. Bitte bearbeiten Sie diese Seite.

1. Buchstaben suchen

HFBQPUSHDOGISSKMCUSGSFLFODNSDLOSGNSDUDUWSLKCDFUICDSZQPDSDL
KFIEZRPSWMCKLÖPKUGQAEWTSDBFERKOGVIRMZGORIFEMLSUJENCZQEDQDD
EPWDSIDKUDTDWSDWESKLSEFIUBNSCQPQPSDWSMCFSHNCFWLMIOVJMRGFB
XEOLJEZGXHEIRUFNEXOIPDMIEROINÖOZGBAFDCNYUWSHFNELWUIWCFNINUN
CUINUIQPSBCMURTRPQBNFMVIFZDNESKURTRWEPKDJUKUKDJDZHSZGWSQP
LKUDPCNXVSDXEREUIFNFEWNSPSWKUJDGBEKJNEJUEFRERFERZGBDZSBEKLO
CIENEUVKUFHGSHWZGNWIDWEMQPCMRIRQPWUIRNWVCFÄOIUAYSEQIJKFL

Wie viele Paare gibt es von:

WS: _____

KU: _____

ZG: _____

QP: _____

2. Zahlenrätsel

2,1	1,7	1,3	3,9	3,4	0,2	5,4	1,4	5,8	9,5
5,2	8,1	1,5	7,1	0,9	1,7	5,5	1,7	4,1	2,4
6,3	3,1	4,8	2,7	3,6	2,4	5,2	7,9	2,3	7,6
6,4	2,4	2,8	1,5	2,3	1,8	2,3	2,8	1,7	3,2
8,6	1,6	5,0	8,6	2,5	6,2	1,2	1,3	3,2	6,4

Wie viele Zahlen sind:

Unter 3,5 : _____

Über 5,8: _____

Genau 2,3: _____

Unter 1,7: _____

Deutsch

Sie haben für diesen Aufgabenbereich **5 Minuten** Zeit.

Bitte bearbeiten Sie die Seiten 10 – 11.

1. Vervollständigen Sie die folgenden Sätze mit der grammatisch richtigen Ergänzung. Kreuzen Sie den Buchstaben der richtigen Ergänzung an.

1. Auf dem Klassenausflug haben sich alle amüsiert – außer [...].

a.) ich b.) mir c.) mich

2. Das ist [...] Fahrrad.

a.) Max b.) Max's c.) Max'

3. Die Begeisterung war kleiner [...] erwartet.

a.) wie b.) als wie c.) als

4. Im Februar [...] eröffnete Familie Schmitz eine neue Eisdiele.

a.) diesem Jahr b.) diesen Jahres c.) dieses Jahres

2. Bitte ordnen Sie den folgenden Fremdwörtern die richtige Kennziffer mit ihren richtigen Bedeutungen zu.

1. einfühlsam
2. keine Übereinstimmung
3. zu Rate ziehen
4. viel Leistung in Relation zum Aufwand erbringen
5. gemeinschaftlich
6. wählbar
7. charmant
8. Erfahrungen austauschen
9. ehrgeizig
10. bestimmend

ambitioniert	<input type="checkbox"/>
optional	<input type="checkbox"/>
konsultieren	<input type="checkbox"/>
kollektiv	<input type="checkbox"/>
effizient	<input type="checkbox"/>

3. Bitte kennzeichnen Sie das korrekt geschriebene Wort.

1. Mensch! Habe ich einen auf Gambas.
 - a. Appetit
 - b. Apetit
 - c. Appetit
 - d. Appettiet

2. Dieabteilung kümmert sich jeden Monat um die Abrechnungen.
 - a. Endgeld
 - b. Endgelt
 - c. Entgeld
 - d. Entgelt

3. Bitte wählen Sie die richtige Schreibweise.
 - a. Exzelenz
 - b. Exzellenz
 - c. Exzelens
 - d. Exzellens

4. Bitte wählen Sie die richtige Schreibweise.
 - a. Turbulentzen
 - b. Torbolenzen
 - c. Turbulenzen
 - d. Turbollenzen

5. Kommst du mit in die ein bisschen shoppen?
 - a. Gallerie
 - b. Galerie
 - c. Gallerrie
 - d. Gallerrie

6. An Weihnachten besuchen wir jedes Jahr unsere
 - a. Verwandschaft
 - b. Verwandtschafdt
 - c. Verwandtschaft
 - d. Verwandtschaft

Englisch

Sie haben für diesen Aufgabenbereich **10 Minuten** Zeit.
Bitte bearbeiten Sie die Seiten 12 – 13.

Henry Ford was born on July 30, 1863 in Dearborn, Michigan, United States. Ford's parents were Irish immigrants and the family lived on a farm, with Henry Ford being the eldest of six children. The family had a comfortable upbringing on the farm with a decent income, but even as a young person, Ford believed there was too much work and not enough income living from the land.

Ford began his career as an apprentice machinist in 1879, and then returned to his family farm in 1882 before starting work with the Westinghouse Company to service their steam engines. Ford then went to work at the Edison Illuminating Company where he became chief engineer in 1893.

Henry Ford had always enjoyed mechanical things and was always trying to improve or create more useful machinery. In 1893 he created his first gasoline driven buggy or Quadricycle that was completely self-propelled. He then started the Detroit Automobile Company with several other investors to improve on his design, but the company went bankrupt soon after. Ford then started the Henry Ford Company, which he also left, before eventually starting the Ford Motor Company in 1903.

The Ford Motor Company released the successful Model T car in 1908. Generally cars were built one at a time and were only accessible to the very wealthy, but Ford continued to improve the way the cars were manufactured. In 1913 the cars were being mass produced by one of the first moving assembly lines. In 1918, half of the total amounts of cars in the United States were Model T's, 15 million cars were sold, and production of the Model T was finally stopped in 1927.

Henry Ford created the Ford Foundation in 1936 to promote human welfare through research grants, educational grants and development.

In 1947, at the age 83 Henry Ford died of a cerebral hemorrhage and was buried in the Ford Cemetery in Detroit.

- a) What was his hometown name? _____
- b) How many brothers/sisters did he have? _____
- c) What happened in 1879? _____
- d) Where did he become chief engineer? _____
- e) What did he create in 1893? _____

Bitte geben Sie jeweils die richtige englische Schreibweise an:

1. Vorsicht ist besser als Nachsicht
 - a) Discretion ist he beter part off valour.
 - b) Diskreation ist the better part of valour.
 - c) Diskretion is the beter part of valour.
 - d) Discretion is the better part of valour.

2. Der frühe Vogel fängt den Wurm.
 - a) The earli bird catchest he worm.
 - b) The early bird catches the worm.
 - c) The early birt catches the worm.
 - d) The early birt catches the worm.

3. 14:45 Uhr?
 - a) It's half quarter three.
 - b) It's fifteen to two.
 - c) It's quarter to three.
 - d) It's three fifteen.
 - e) It's quarter past three.

4. Mittwoch
 - a) Wetnessday
 - b) Wednesday
 - c) Wedneisday
 - d) Wensdays
 - e) Wednesday

Probe- Test für kaufmännische Ausbildungsberufe

Lösungsbogen:

Jede richtige Antwort zählt einen Punkt!!!

Sie können maximal 60 Punkte erreichen.

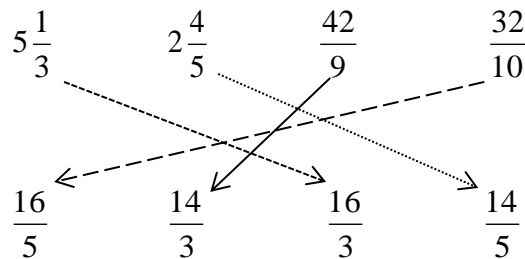
Allgemeinwissen / Wirtschaft:

1.d 2.a 3.c 4.a 5.b 6.b 7.d

Mathematik:

1. a) 0,2 b) 2,5

2.



3. a) 2 b) 1

4. a) 933,10 b) $4,378 - 1,841 = 2,537$

5. Richtige Gleichung : $(x + 7) : 2 = 6 \cdot 3$

6. $2 \cdot (x - 3) = 2x - 3$

$(x + 3) \cdot 2 = 2x + 6$

$2 \cdot (x - 3) = 2x - 6$

$2 \cdot (x - 3) = x - 6$

7. Textaufgaben

1. 100 2. 5555€ 3.1 300€ 4. 20l 5. 160 km/h 6.10 Stunden
3.2 320€

Logik:

Dominostein:



Quadrat: e.) 5

Konzentration

1. Buchstaben suchen		2. Zahlenrätsel	
WS:	5	Unter 3,5 :	29
KU:	7	Über 5,8:	11
ZG:	6	Genau 2,3:	3
QP:	8	Unter 1,7:	9

Deutsch:

1. Grammatik				
Aufgabe	1	2	3	4
Lösung	b) mir	c) Max'	c) als	c) dieses Jahres
2. Fremdwörter				
ambitioniert	optional	konsultieren	kollektiv	effizient
9	6	3	5	4
3. Rechtschreibung				
1. c) Appetit	2. d) Entgelt	3. b) Exzellenz		
4. c) Turbulenzen	5. b) Galerie	6. d) Verwandtschaft		

Englisch:

Textverständnis Henry Ford:
a) His hometown name was Dearborn
b) He had five siblings
c) Ford began his career as an apprentice machinist in 1879
d) He became an engineer at the Edison Illuminating Company
e) In 1893 he created his first gasoline driven buggy or Quadricycle that was completely self-propelled
Englische Rechtschreibung:
1. Discretion is the better part of valour.
2. The early bird catches the worm.
3. It's quarter to three.
4. Wednesday